

立体の投影図

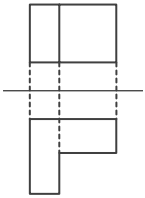
____年 ____組 名前

/10

■ 次の①～⑩の投影図の表す立体の見取図として、最も適当なものを下のア～シから記号で選び、記号で答えなさい。

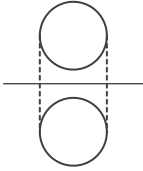
ただし、投影図は、上側が立面図、下側が平面図を表しているものとする。

①



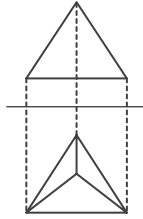
記号

②



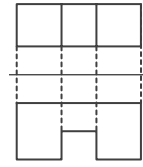
記号

③



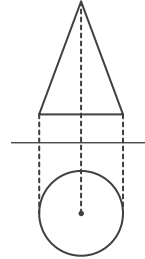
記号

④



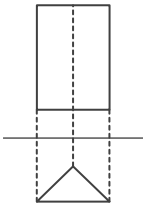
記号

⑤



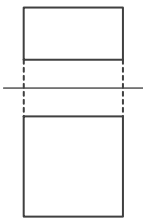
記号

⑥



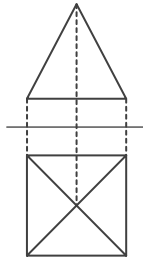
記号

⑦



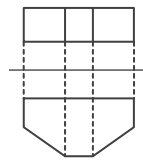
記号

⑧



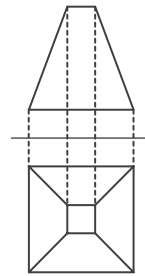
記号

⑨



記号

⑩



記号

ア	イ	ウ	エ
オ	カ	キ	ク
ケ	コ	サ	シ

立体の投影図

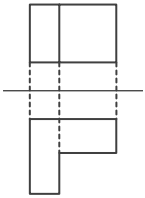
____年 ____組 名前

/10

■ 次の①～⑩の投影図の表す立体の見取図として、最も適当なものを下のア～シから記号で選び、記号で答えなさい。

ただし、投影図は、上側が立面図、下側が平面図を表しているものとする。

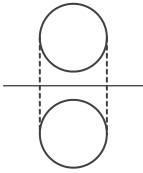
①



記号

キ

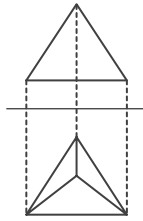
②



記号

イ

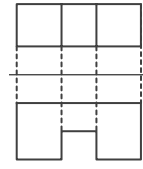
③



記号

オ

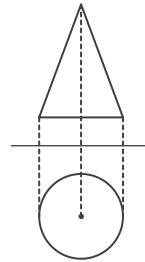
④



記号

サ

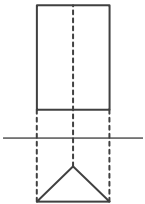
⑤



記号

ク

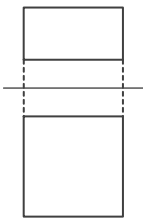
⑥



記号

ケ

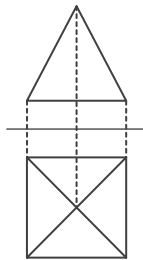
⑦



記号

ウ

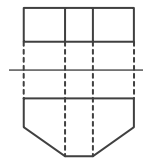
⑧



記号

ア

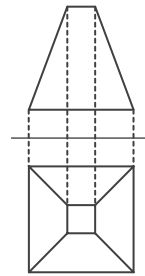
⑨



記号

エ

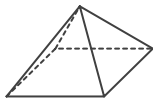
⑩



記号

カ

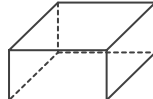
ア



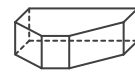
イ



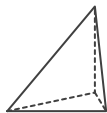
ウ



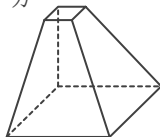
エ



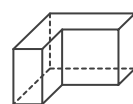
オ



カ



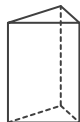
キ



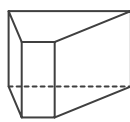
ク



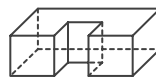
ケ



コ



サ



シ

