

立体の投影図

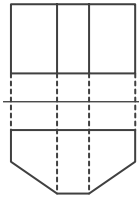
____年 ____組 名前

/10

■ 次の①～⑩の投影図の表す立体の見取図として、最も適当なものを下のア～シから記号で選び、記号で答えなさい。

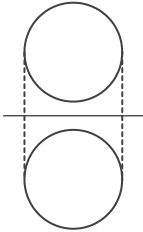
ただし、投影図は、上側が立面図、下側が平面図を表しているものとする。

①



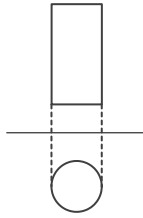
記号

②



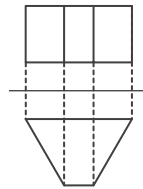
記号

③



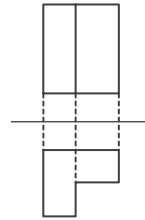
記号

④



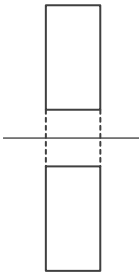
記号

⑤



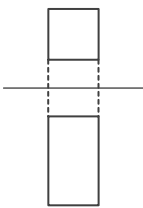
記号

⑥



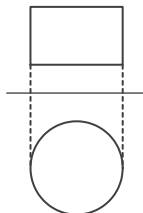
記号

⑦



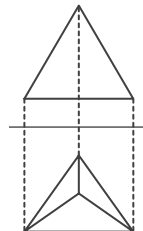
記号

⑧



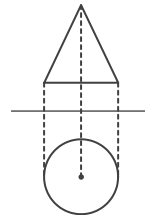
記号

⑨



記号

⑩



記号

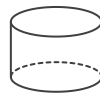
ア



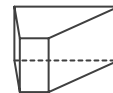
イ



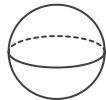
ウ



エ



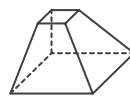
オ



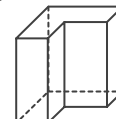
カ



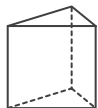
キ



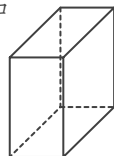
ク



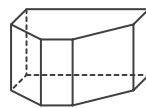
ケ



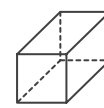
コ



サ



シ



立体の投影図

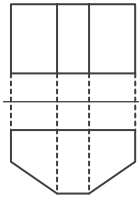
____年 ____組 名前

/10

■ 次の①～⑩の投影図の表す立体の見取図として、最も適当なものを下のア～シから記号で選び、記号で答えなさい。

ただし、投影図は、上側が立面図、下側が平面図を表しているものとする。

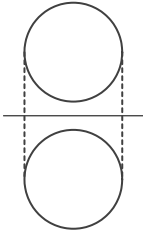
①



記号

サ

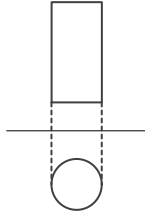
②



記号

オ

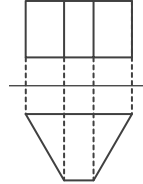
③



記号

カ

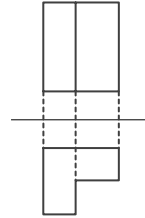
④



記号

エ

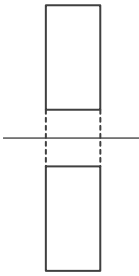
⑤



記号

ク

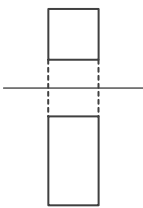
⑥



記号

コ

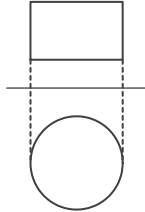
⑦



記号

シ

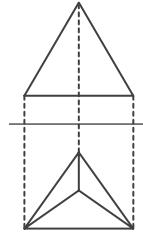
⑧



記号

ウ

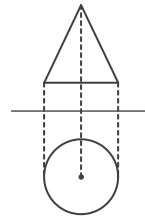
⑨



記号

ア

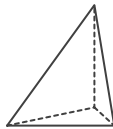
⑩



記号

イ

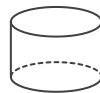
ア



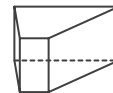
イ



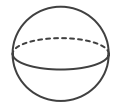
ウ



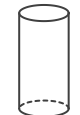
エ



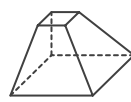
オ



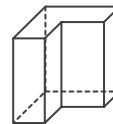
カ



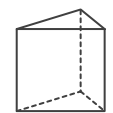
キ



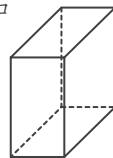
ク



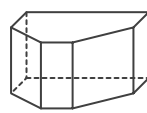
ケ



コ



サ



シ

