

# 立体の投影図

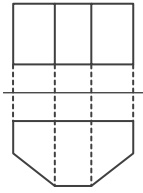
年 組 名前

/10

■ 次の①～⑩の投影図の表す立体の見取図として、最も適当なものを下のア～シから記号で選び、記号で答えなさい。

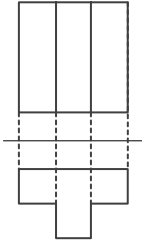
ただし、投影図は、上側が立面図、下側が平面図を表しているものとする。

①



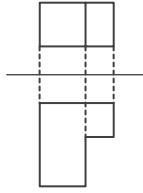
記号

②



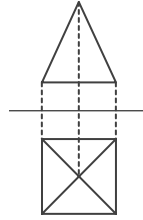
記号

③



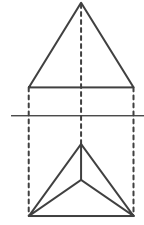
記号

④



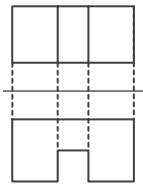
記号

⑤



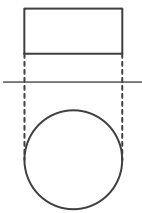
記号

⑥



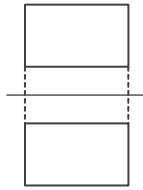
記号

⑦



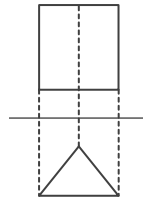
記号

⑧



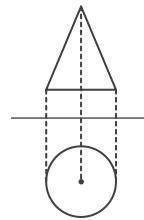
記号

⑨



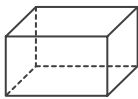
記号

⑩



記号

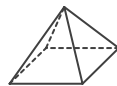
ア



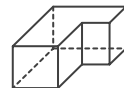
イ



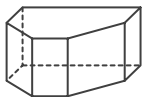
ウ



エ



オ



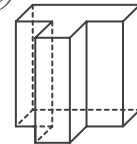
カ



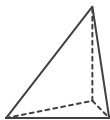
キ



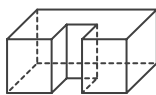
ク



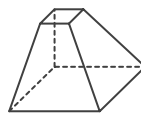
ケ



コ



サ



シ



# 立体の投影図

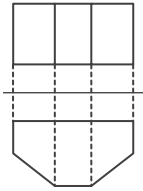
\_\_\_\_年 \_\_\_\_組 名前

/10

■ 次の①～⑩の投影図の表す立体の見取図として、最も適当なものを下のア～シから記号で選び、記号で答えなさい。

ただし、投影図は、上側が立面図、下側が平面図を表しているものとする。

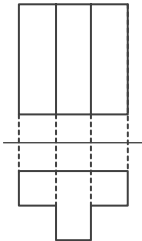
①



記号

オ

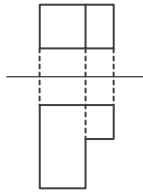
②



記号

ク

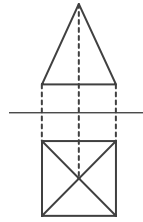
③



記号

エ

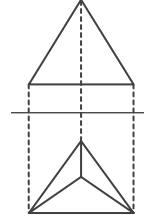
④



記号

ウ

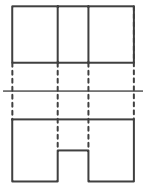
⑤



記号

ケ

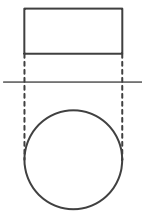
⑥



記号

コ

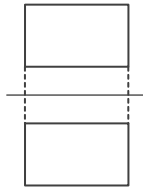
⑦



記号

シ

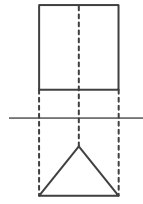
⑧



記号

ア

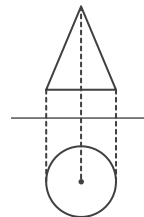
⑨



記号

カ

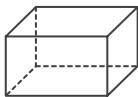
⑩



記号

キ

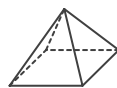
ア



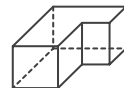
イ



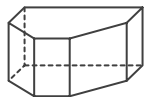
ウ



エ



オ



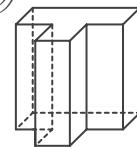
カ



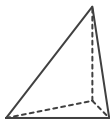
キ



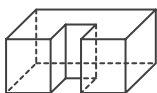
ク



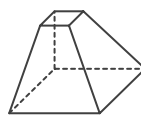
ケ



コ



サ



シ

