

立体の投影図

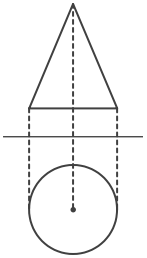
____年 ____組 名前

/10

■ 次の①～⑩の投影図の表す立体の見取図として、最も適当なものを下のア～シから記号で選び、記号で答えなさい。

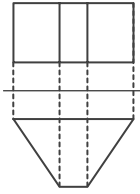
ただし、投影図は、上側が立面図、下側が平面図を表しているものとする。

①



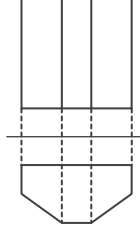
記号

②



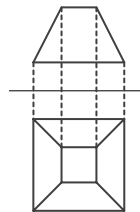
記号

③



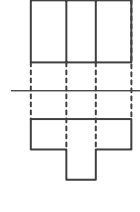
記号

④



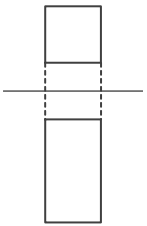
記号

⑤



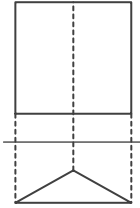
記号

⑥



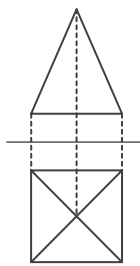
記号

⑦



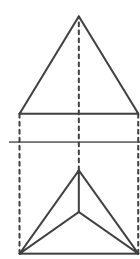
記号

⑧



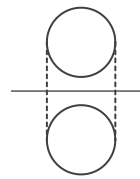
記号

⑨



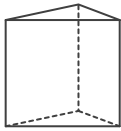
記号

⑩

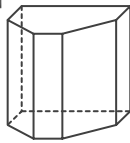


記号

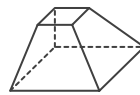
ア



イ



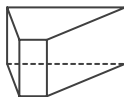
ウ



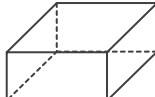
エ



オ



カ



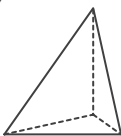
キ



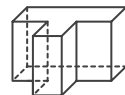
ク



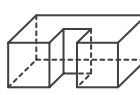
ケ



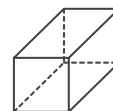
コ



サ



シ



立体の投影図

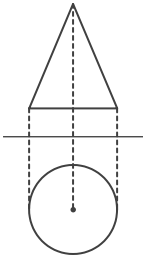
____年 ____組 名前

/10

■ 次の①～⑩の投影図の表す立体の見取図として、最も適当なものを下のア～シから記号で選び、記号で答えなさい。

ただし、投影図は、上側が立面図、下側が平面図を表しているものとする。

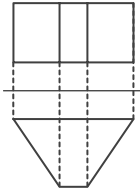
①



記号

エ

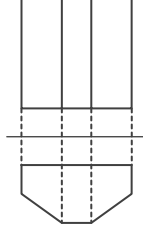
②



記号

オ

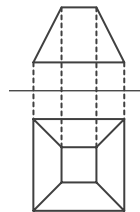
③



記号

イ

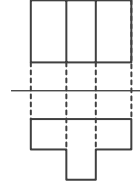
④



記号

ウ

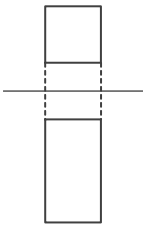
⑤



記号

コ

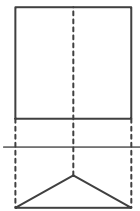
⑥



記号

シ

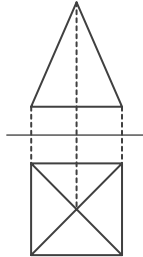
⑦



記号

ア

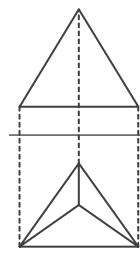
⑧



記号

キ

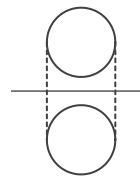
⑨



記号

ケ

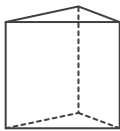
⑩



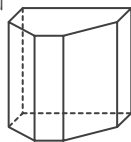
記号

ク

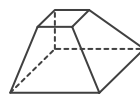
ア



イ



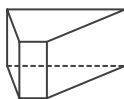
ウ



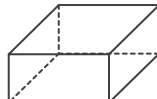
エ



オ



カ



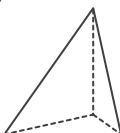
キ



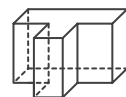
ク



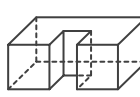
ケ



コ



サ



シ

