

立体の投影図

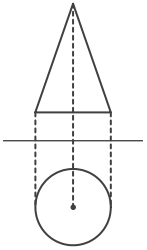
____年 ____組 名前

/10

■ 次の①～⑩の投影図の表す立体の見取図として、最も適当なものを下のア～シから記号で選び、記号で答えなさい。

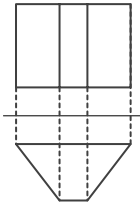
ただし、投影図は、上側が立面図、下側が平面図を表しているものとする。

①



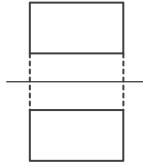
記号

②



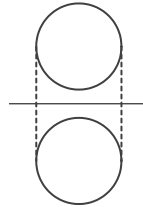
記号

③



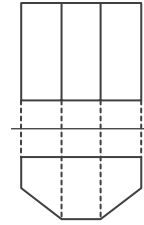
記号

④



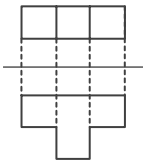
記号

⑤



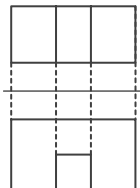
記号

⑥



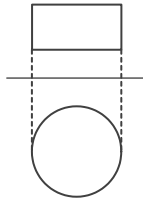
記号

⑦



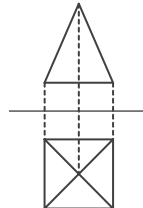
記号

⑧



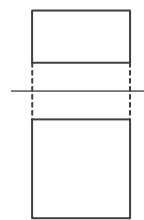
記号

⑨



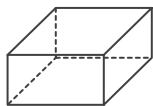
記号

⑩

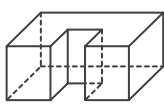


記号

ア



イ



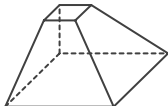
ウ



エ



オ



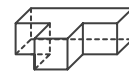
カ



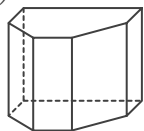
キ



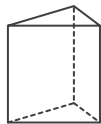
ク



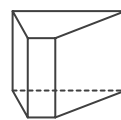
ケ



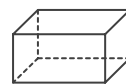
コ



サ



シ



立体の投影図

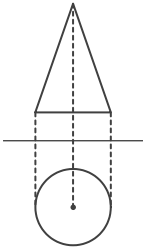
____年 ____組 名前

/10

■ 次の①～⑩の投影図の表す立体の見取図として、最も適当なものを下のア～シから記号で選び、記号で答えなさい。

ただし、投影図は、上側が立面図、下側が平面図を表しているものとする。

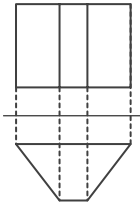
①



記号

エ

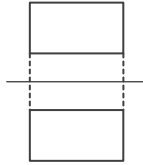
②



記号

サ

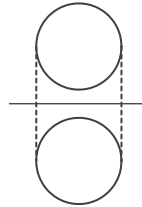
③



記号

シ

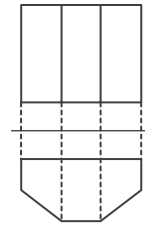
④



記号

カ

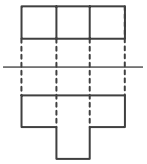
⑤



記号

ケ

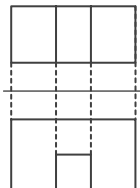
⑥



記号

ク

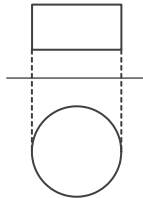
⑦



記号

イ

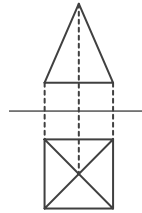
⑧



記号

ウ

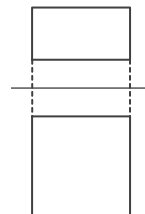
⑨



記号

キ

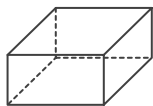
⑩



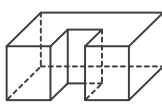
記号

ア

ア



イ



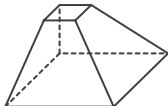
ウ



エ



オ



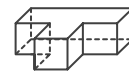
カ



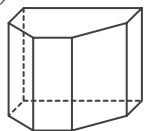
キ



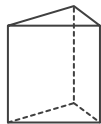
ク



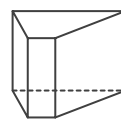
ケ



コ



サ



シ

