

# 立体の投影図

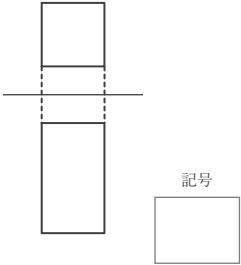
\_\_\_\_年 \_\_\_\_組 名前

/10

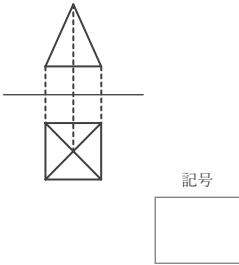
■ 次の①～⑩の投影図の表す立体の見取図として、最も適当なものを下のア～シから記号で選び、記号で答えなさい。

ただし、投影図は、上側が立面図、下側が平面図を表しているものとする。

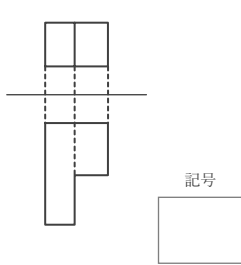
①



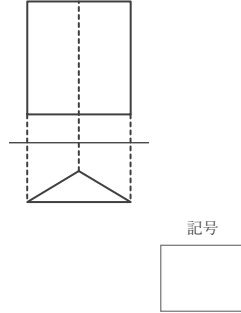
②



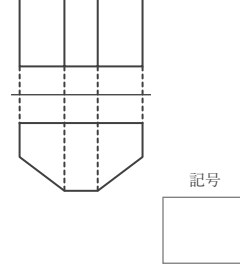
③



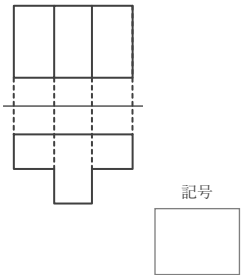
④



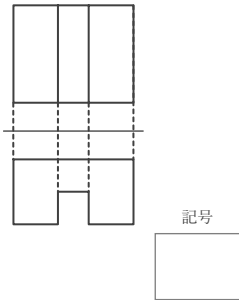
⑤



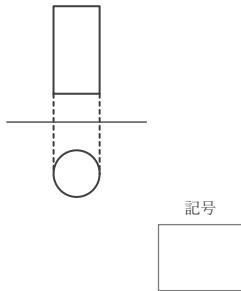
⑥



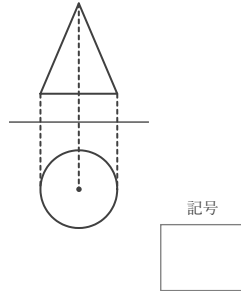
⑦



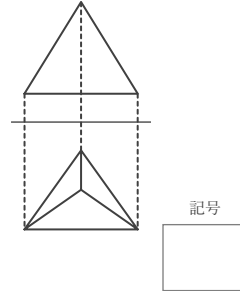
⑧



⑨



⑩



ア 	イ 	ウ 	エ 
オ 	カ 	キ 	ク 
ケ 	コ 	サ 	シ 

# 立体の投影図

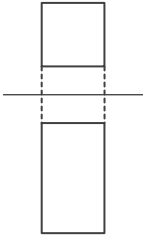
\_\_\_\_年 \_\_\_\_組 名前

/10

■ 次の①～⑩の投影図の表す立体の見取図として、最も適当なものを下のア～シから記号で選び、記号で答えなさい。

ただし、投影図は、上側が立面図、下側が平面図を表しているものとする。

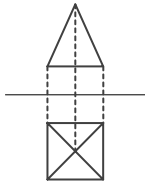
①



記号

カ

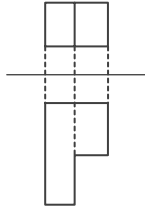
②



記号

ウ

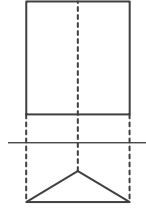
③



記号

エ

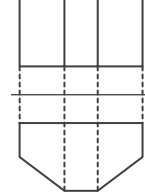
④



記号

コ

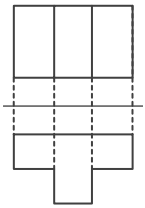
⑤



記号

サ

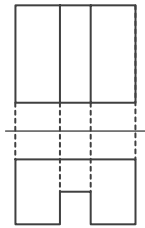
⑥



記号

ア

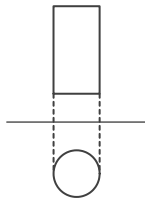
⑦



記号

ク

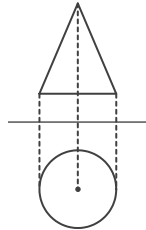
⑧



記号

イ

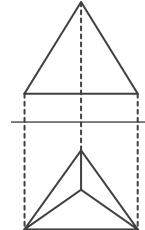
⑨



記号

キ

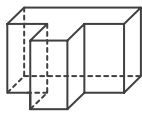
⑩



記号

シ

ア



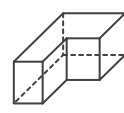
イ



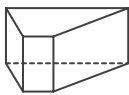
ウ



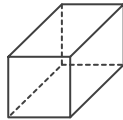
エ



オ



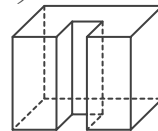
カ



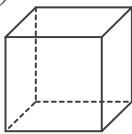
キ



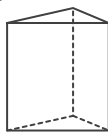
ク



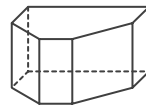
ケ



コ



サ



シ

