

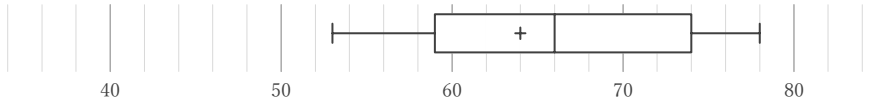
# 箱ひげ図

\_\_\_\_年 \_\_\_\_組 名前 \_\_\_\_\_

/28

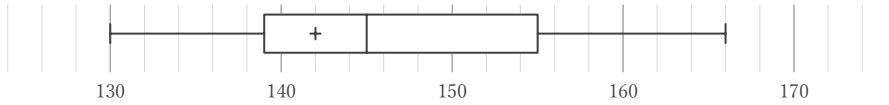
■ 箱ひげ図を見て、最小値、最大値、平均値、中央値、第1四分位数、第3四分位数、四分位範囲をそれぞれ答えなさい。ただし、値は全て整数をとるものとする。

①



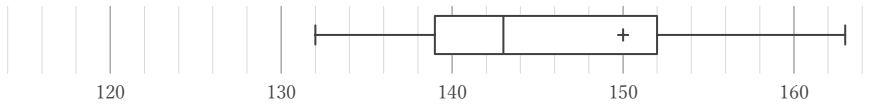
最小値	最大値	平均値	中央値	第1四分位数	第3四分位数	四分位範囲

②



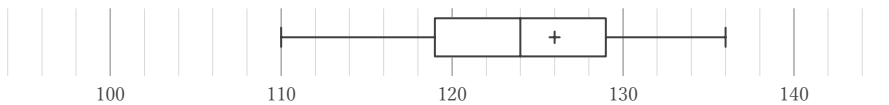
最小値	最大値	平均値	中央値	第1四分位数	第3四分位数	四分位範囲

③



最小値	最大値	平均値	中央値	第1四分位数	第3四分位数	四分位範囲

④



最小値	最大値	平均値	中央値	第1四分位数	第3四分位数	四分位範囲

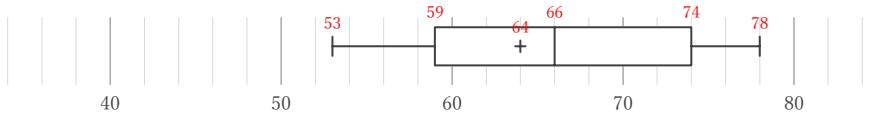
# 箱ひげ図

年 組 名前

/28

■ 箱ひげ図を見て、最小値、最大値、平均値、中央値、第1四分位数、第3四分位数、四分位範囲をそれぞれ答えなさい。ただし、値は全て整数をとるものとする。

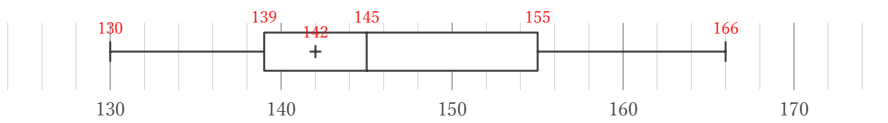
①



最小値	最大値	平均値	中央値	第1四分位数	第3四分位数	四分位範囲
53	78	64	66	59	74	15

74 - 59

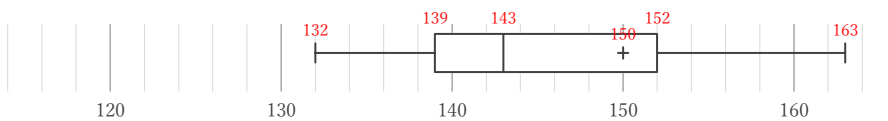
②



最小値	最大値	平均値	中央値	第1四分位数	第3四分位数	四分位範囲
130	166	142	145	139	155	16

155 - 139

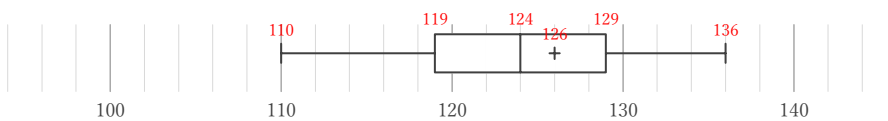
③



最小値	最大値	平均値	中央値	第1四分位数	第3四分位数	四分位範囲
132	163	150	143	139	152	13

152 - 139

④



最小値	最大値	平均値	中央値	第1四分位数	第3四分位数	四分位範囲
110	136	126	124	119	129	10

129 - 119