

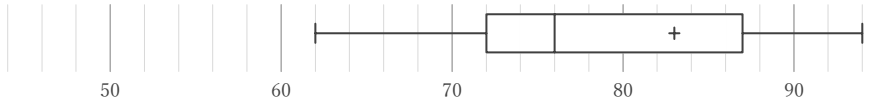
箱ひげ図

____年 ____組 名前

/28

■ 箱ひげ図を見て、最小値、最大値、平均値、中央値、第1四分位数、第3四分位数、四分位範囲をそれぞれ答えなさい。ただし、値は全て整数をとるものとする。

①



最小値	最大値	平均値	中央値	第1四分位数	第3四分位数	四分位範囲

②



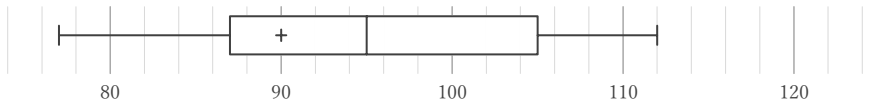
最小値	最大値	平均値	中央値	第1四分位数	第3四分位数	四分位範囲

③



最小値	最大値	平均値	中央値	第1四分位数	第3四分位数	四分位範囲

④



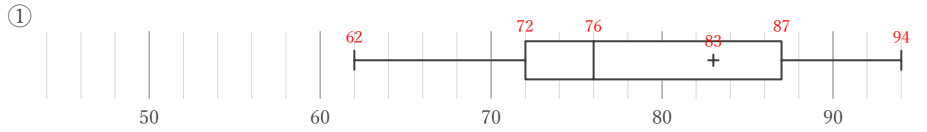
最小値	最大値	平均値	中央値	第1四分位数	第3四分位数	四分位範囲

箱ひげ図

年 組 名前

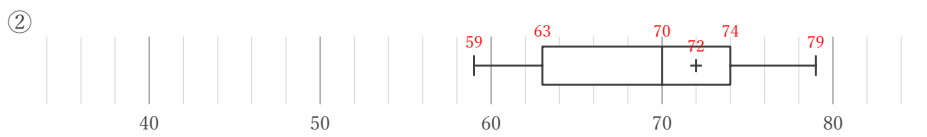
/28

■ 箱ひげ図を見て、最小値、最大値、平均値、中央値、第1四分位数、第3四分位数、四分位範囲をそれぞれ答えなさい。ただし、値は全て整数をとるものとする。



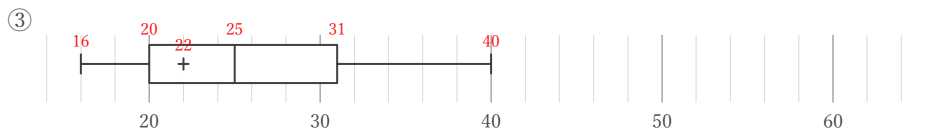
最小値	最大値	平均値	中央値	第1四分位数	第3四分位数	四分位範囲
62	94	83	76	72	87	15

$$87 - 72$$



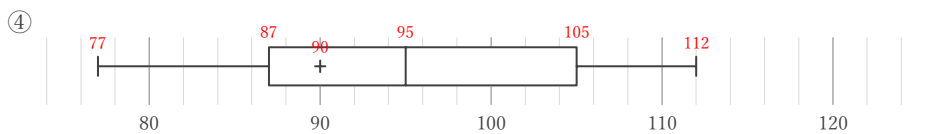
最小値	最大値	平均値	中央値	第1四分位数	第3四分位数	四分位範囲
59	79	72	70	63	74	11

$$74 - 63$$



最小値	最大値	平均値	中央値	第1四分位数	第3四分位数	四分位範囲
16	40	22	25	20	31	11

$$31 - 20$$



最小値	最大値	平均値	中央値	第1四分位数	第3四分位数	四分位範囲
77	112	90	95	87	105	18

$$105 - 87$$