

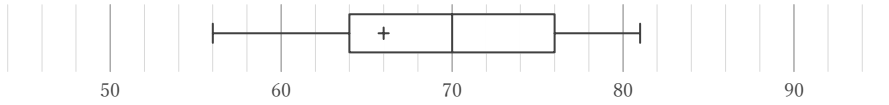
箱ひげ図

____年 ____組 名前

/28

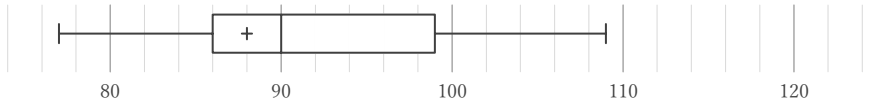
■ 箱ひげ図を見て、最小値、最大値、平均値、中央値、第1四分位数、第3四分位数、四分位範囲をそれぞれ答えなさい。ただし、値は全て整数をとるものとする。

①



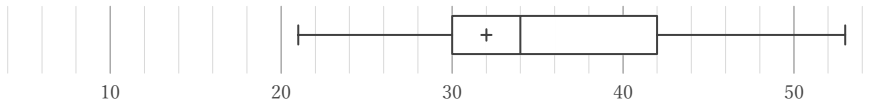
最小値	最大値	平均値	中央値	第1四分位数	第3四分位数	四分位範囲

②



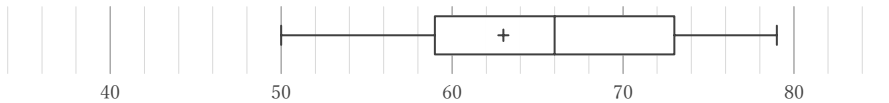
最小値	最大値	平均値	中央値	第1四分位数	第3四分位数	四分位範囲

③



最小値	最大値	平均値	中央値	第1四分位数	第3四分位数	四分位範囲

④



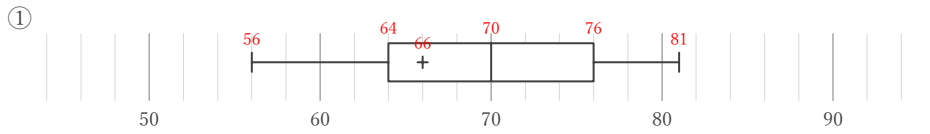
最小値	最大値	平均値	中央値	第1四分位数	第3四分位数	四分位範囲

箱ひげ図

年 組 名前

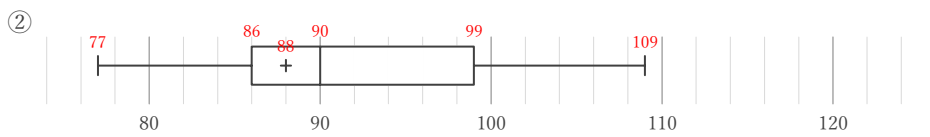
/28

■ 箱ひげ図を見て、最小値、最大値、平均値、中央値、第1四分位数、第3四分位数、四分位範囲をそれぞれ答えなさい。ただし、値は全て整数をとるものとする。



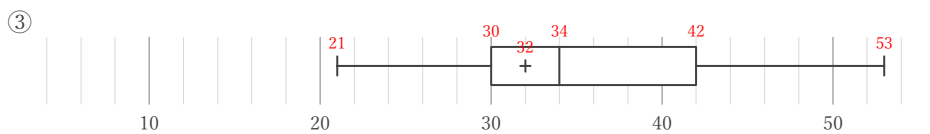
最小値	最大値	平均値	中央値	第1四分位数	第3四分位数	四分位範囲
56	81	66	70	64	76	12

$$76 - 64$$



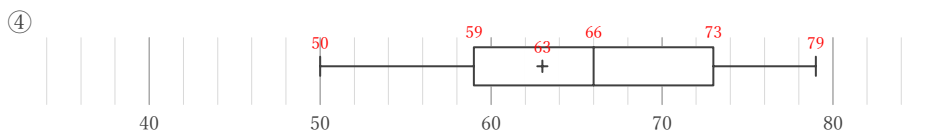
最小値	最大値	平均値	中央値	第1四分位数	第3四分位数	四分位範囲
77	109	88	90	86	99	13

$$99 - 86$$



最小値	最大値	平均値	中央値	第1四分位数	第3四分位数	四分位範囲
21	53	32	34	30	42	12

$$42 - 30$$



最小値	最大値	平均値	中央値	第1四分位数	第3四分位数	四分位範囲
50	79	63	66	59	73	14

$$73 - 59$$