

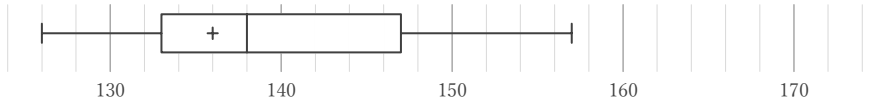
箱ひげ図

____年 ____組 名前

/28

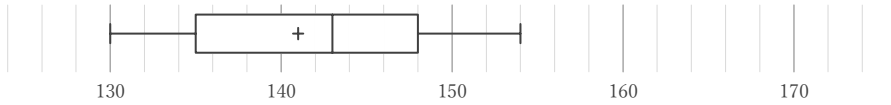
■ 箱ひげ図を見て、最小値、最大値、平均値、中央値、第1四分位数、第3四分位数、四分位範囲をそれぞれ答えなさい。ただし、値は全て整数をとるものとする。

①



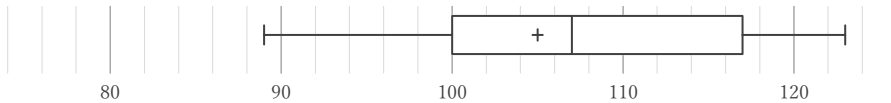
最小値	最大値	平均値	中央値	第1四分位数	第3四分位数	四分位範囲

②



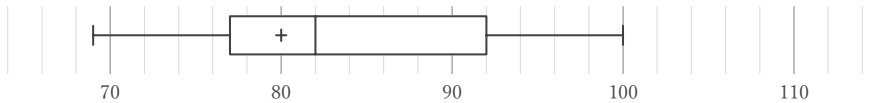
最小値	最大値	平均値	中央値	第1四分位数	第3四分位数	四分位範囲

③



最小値	最大値	平均値	中央値	第1四分位数	第3四分位数	四分位範囲

④



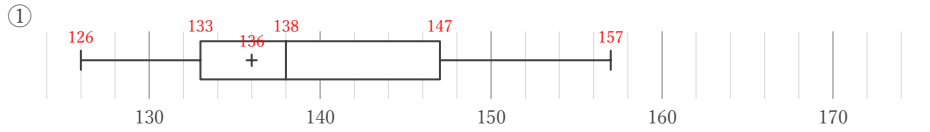
最小値	最大値	平均値	中央値	第1四分位数	第3四分位数	四分位範囲

箱ひげ図

年 組 名前

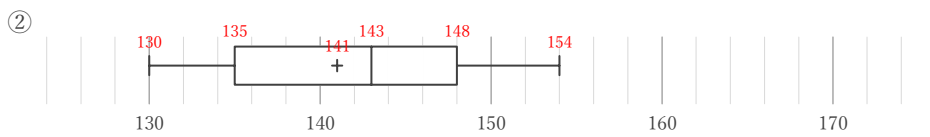
/28

■ 箱ひげ図を見て、最小値、最大値、平均値、中央値、第1四分位数、第3四分位数、四分位範囲をそれぞれ答えなさい。ただし、値は全て整数をとるものとする。



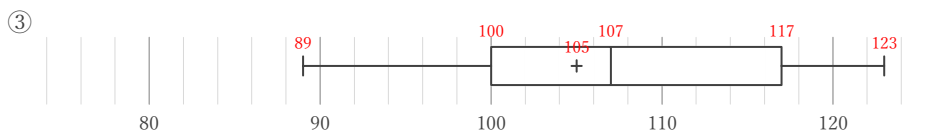
最小値	最大値	平均値	中央値	第1四分位数	第3四分位数	四分位範囲
126	157	136	138	133	147	14

$$147 - 133$$



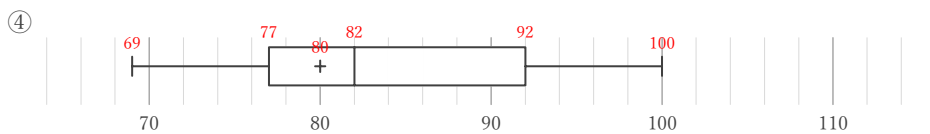
最小値	最大値	平均値	中央値	第1四分位数	第3四分位数	四分位範囲
130	154	141	143	135	148	13

$$148 - 135$$



最小値	最大値	平均値	中央値	第1四分位数	第3四分位数	四分位範囲
89	123	105	107	100	117	17

$$117 - 100$$



最小値	最大値	平均値	中央値	第1四分位数	第3四分位数	四分位範囲
69	100	80	82	77	92	15

$$92 - 77$$