

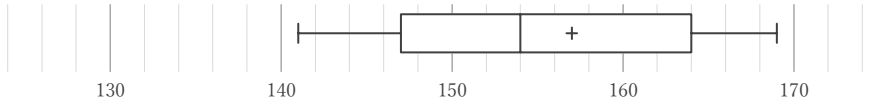
箱ひげ図

____年 ____組 名前

/28

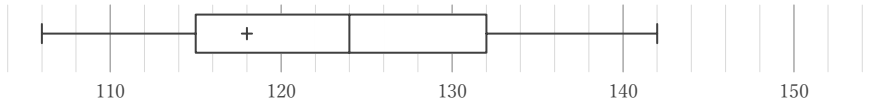
■ 箱ひげ図を見て、最小値、最大値、平均値、中央値、第1四分位数、第3四分位数、四分位範囲をそれぞれ答えなさい。ただし、値は全て整数をとるものとする。

①



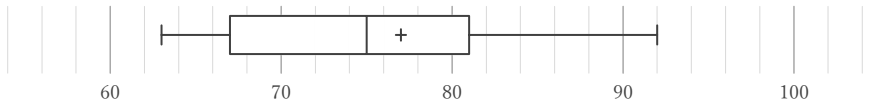
| 最小値 | 最大値 | 平均値 | 中央値 | 第1四分位数 | 第3四分位数 | 四分位範囲 |
|-----|-----|-----|-----|--------|--------|-------|
| | | | | | | |

②



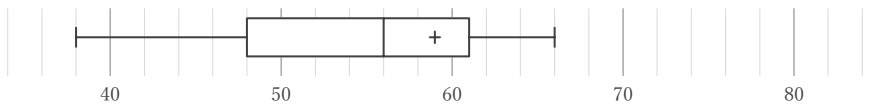
| 最小値 | 最大値 | 平均値 | 中央値 | 第1四分位数 | 第3四分位数 | 四分位範囲 |
|-----|-----|-----|-----|--------|--------|-------|
| | | | | | | |

③



| 最小値 | 最大値 | 平均値 | 中央値 | 第1四分位数 | 第3四分位数 | 四分位範囲 |
|-----|-----|-----|-----|--------|--------|-------|
| | | | | | | |

④



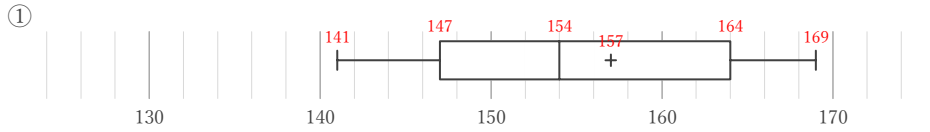
| 最小値 | 最大値 | 平均値 | 中央値 | 第1四分位数 | 第3四分位数 | 四分位範囲 |
|-----|-----|-----|-----|--------|--------|-------|
| | | | | | | |

箱ひげ図

年 組 名前

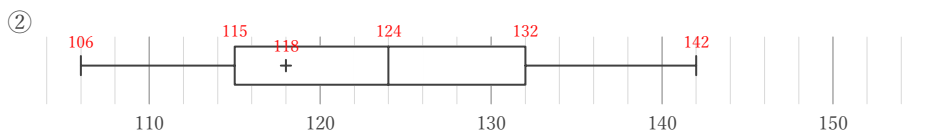
/28

■ 箱ひげ図を見て、最小値、最大値、平均値、中央値、第1四分位数、第3四分位数、四分位範囲をそれぞれ答えなさい。ただし、値は全て整数をとるものとする。



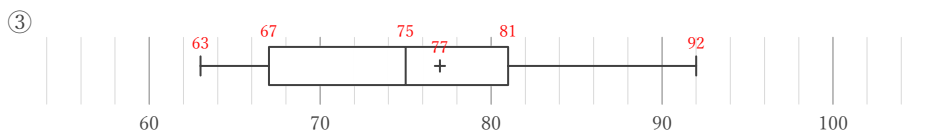
| 最小値 | 最大値 | 平均値 | 中央値 | 第1四分位数 | 第3四分位数 | 四分位範囲 |
|-----|-----|-----|-----|--------|--------|-------|
| 141 | 169 | 157 | 154 | 147 | 164 | 17 |

164 - 147



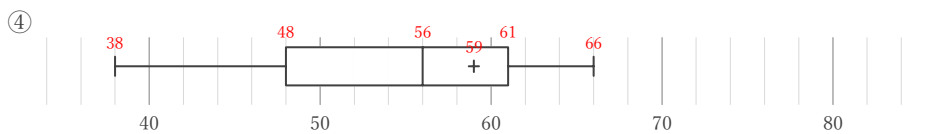
| 最小値 | 最大値 | 平均値 | 中央値 | 第1四分位数 | 第3四分位数 | 四分位範囲 |
|-----|-----|-----|-----|--------|--------|-------|
| 106 | 142 | 118 | 124 | 115 | 132 | 17 |

132 - 115



| 最小値 | 最大値 | 平均値 | 中央値 | 第1四分位数 | 第3四分位数 | 四分位範囲 |
|-----|-----|-----|-----|--------|--------|-------|
| 63 | 92 | 77 | 75 | 67 | 81 | 14 |

81 - 67



| 最小値 | 最大値 | 平均値 | 中央値 | 第1四分位数 | 第3四分位数 | 四分位範囲 |
|-----|-----|-----|-----|--------|--------|-------|
| 38 | 66 | 59 | 56 | 48 | 61 | 13 |

61 - 48