

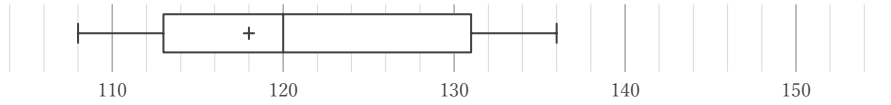
# 箱ひげ図

\_\_\_\_年 \_\_\_\_組 名前 \_\_\_\_\_

/28

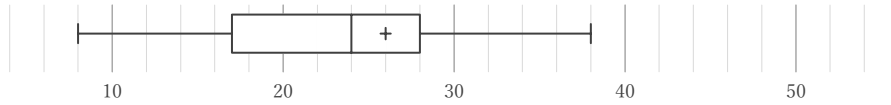
■ 箱ひげ図を見て、最小値、最大値、平均値、中央値、第1四分位数、第3四分位数、四分位範囲をそれぞれ答えなさい。ただし、値は全て整数をとるものとする。

①



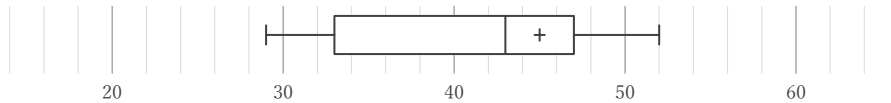
最小値	最大値	平均値	中央値	第1四分位数	第3四分位数	四分位範囲

②



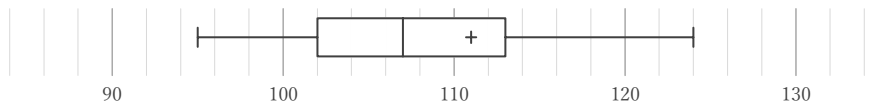
最小値	最大値	平均値	中央値	第1四分位数	第3四分位数	四分位範囲

③



最小値	最大値	平均値	中央値	第1四分位数	第3四分位数	四分位範囲

④



最小値	最大値	平均値	中央値	第1四分位数	第3四分位数	四分位範囲

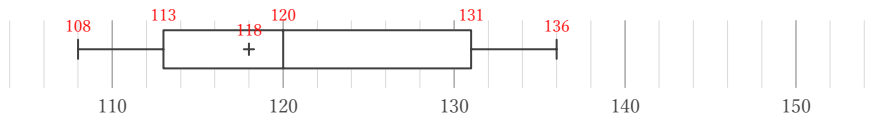
# 箱ひげ図

年 組 名前

/28

■ 箱ひげ図を見て、最小値、最大値、平均値、中央値、第1四分位数、第3四分位数、四分位範囲をそれぞれ答えなさい。ただし、値は全て整数をとるものとする。

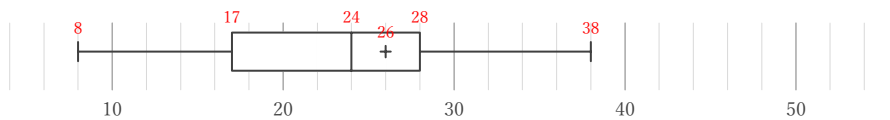
①



最小値	最大値	平均値	中央値	第1四分位数	第3四分位数	四分位範囲
108	136	118	120	113	131	18

131 - 113

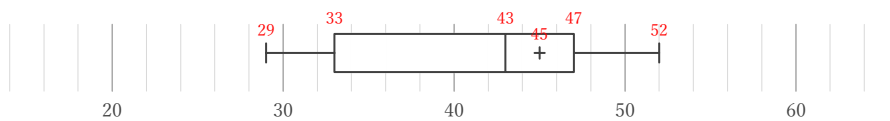
②



最小値	最大値	平均値	中央値	第1四分位数	第3四分位数	四分位範囲
8	38	26	24	17	28	11

28 - 17

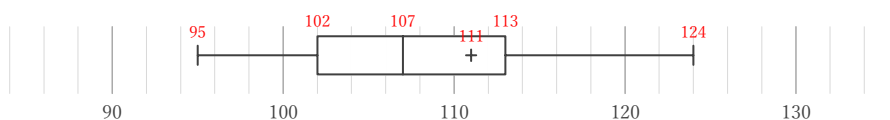
③



最小値	最大値	平均値	中央値	第1四分位数	第3四分位数	四分位範囲
29	52	45	43	33	47	14

47 - 33

④



最小値	最大値	平均値	中央値	第1四分位数	第3四分位数	四分位範囲
95	124	111	107	102	113	11

113 - 102