

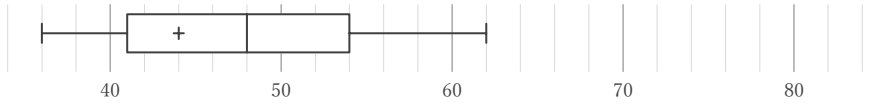
箱ひげ図

____年 ____組 名前

/28

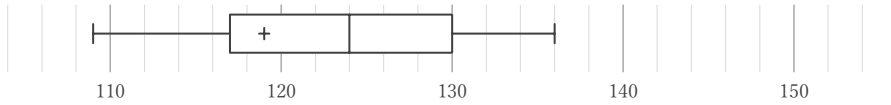
■ 箱ひげ図を見て、最小値、最大値、平均値、中央値、第1四分位数、第3四分位数、四分位範囲をそれぞれ答えなさい。ただし、値は全て整数をとるものとする。

①



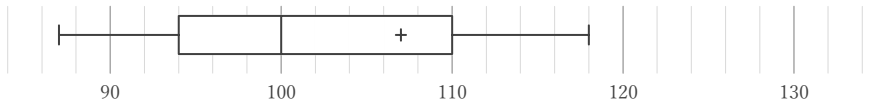
最小値	最大値	平均値	中央値	第1四分位数	第3四分位数	四分位範囲

②



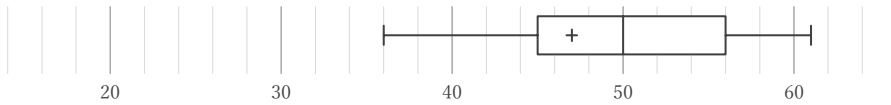
最小値	最大値	平均値	中央値	第1四分位数	第3四分位数	四分位範囲

③



最小値	最大値	平均値	中央値	第1四分位数	第3四分位数	四分位範囲

④



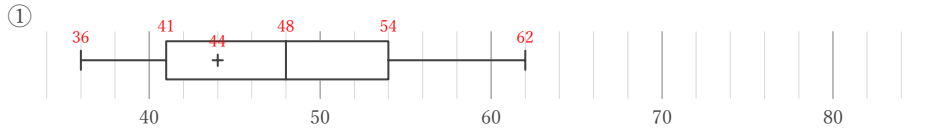
最小値	最大値	平均値	中央値	第1四分位数	第3四分位数	四分位範囲

箱ひげ図

年 組 名前

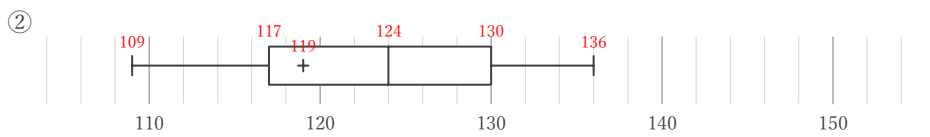
/28

■ 箱ひげ図を見て、最小値、最大値、平均値、中央値、第1四分位数、第3四分位数、四分位範囲をそれぞれ答えなさい。ただし、値は全て整数をとるものとする。



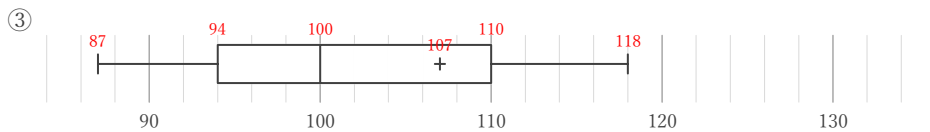
最小値	最大値	平均値	中央値	第1四分位数	第3四分位数	四分位範囲
36	62	44	48	41	54	13

54 - 41



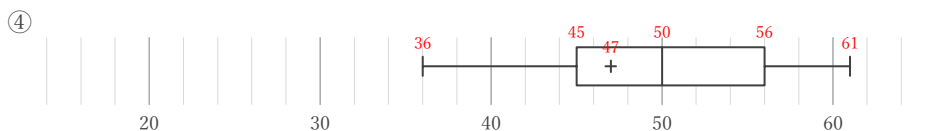
最小値	最大値	平均値	中央値	第1四分位数	第3四分位数	四分位範囲
109	136	119	124	117	130	13

130 - 117



最小値	最大値	平均値	中央値	第1四分位数	第3四分位数	四分位範囲
87	118	107	100	94	110	16

110 - 94



最小値	最大値	平均値	中央値	第1四分位数	第3四分位数	四分位範囲
36	61	47	50	45	56	11

56 - 45