

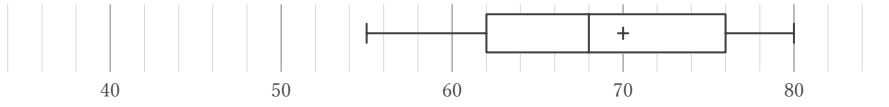
# 箱ひげ図

\_\_\_\_年 \_\_\_\_組 名前

/28

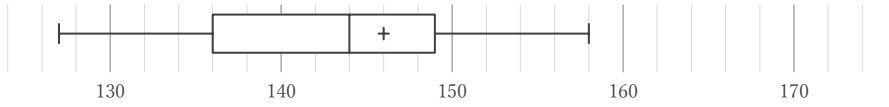
■ 箱ひげ図を見て、最小値、最大値、平均値、中央値、第1四分位数、第3四分位数、四分位範囲をそれぞれ答えなさい。ただし、値は全て整数をとるものとする。

①



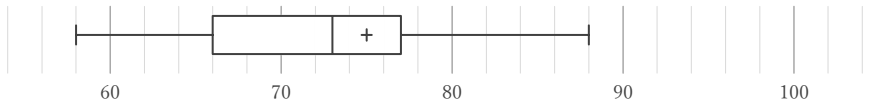
最小値	最大値	平均値	中央値	第1四分位数	第3四分位数	四分位範囲

②



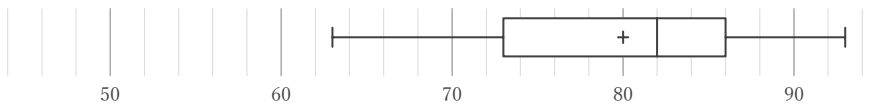
最小値	最大値	平均値	中央値	第1四分位数	第3四分位数	四分位範囲

③



最小値	最大値	平均値	中央値	第1四分位数	第3四分位数	四分位範囲

④



最小値	最大値	平均値	中央値	第1四分位数	第3四分位数	四分位範囲

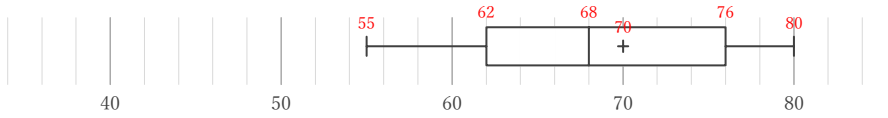
# 箱ひげ図

年 組 名前

/28

■ 箱ひげ図を見て、最小値、最大値、平均値、中央値、第1四分位数、第3四分位数、四分位範囲をそれぞれ答えなさい。ただし、値は全て整数をとるものとする。

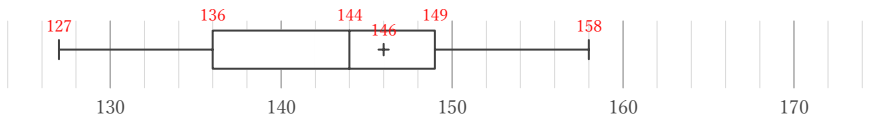
①



最小値	最大値	平均値	中央値	第1四分位数	第3四分位数	四分位範囲
55	80	70	68	62	76	14

$$76 - 62$$

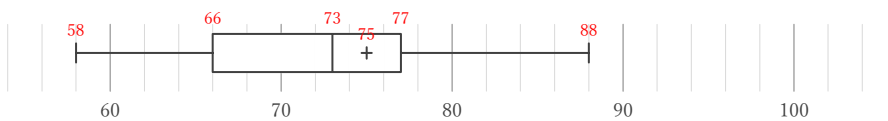
②



最小値	最大値	平均値	中央値	第1四分位数	第3四分位数	四分位範囲
127	158	146	144	136	149	13

$$149 - 136$$

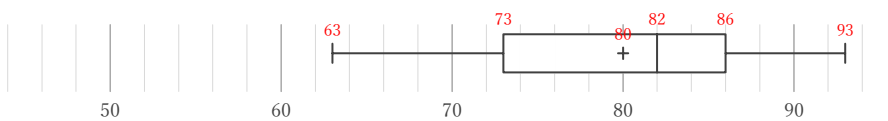
③



最小値	最大値	平均値	中央値	第1四分位数	第3四分位数	四分位範囲
58	88	75	73	66	77	11

$$77 - 66$$

④



最小値	最大値	平均値	中央値	第1四分位数	第3四分位数	四分位範囲
63	93	80	82	73	86	13

$$86 - 73$$